

广州高山文化培训学校

2017 届文科综合堂练 11

(答题时间: 150 分钟 总分: 300 分 命题: 高山学校文综组 2017. 03. 26)

第 I 卷

第 I 卷共 35 小题。每小题 4 分, 共 140 分。在每个小题给出的四个选项中, 只有一项符合题目要求。

河北小镇燕郊, 毗邻北京市通州区, 随着北京市城市空间“东移南扩”, 燕郊成了白天比较冷清、晚上很热闹的“睡城”, 每天大约 40 万人中的 80% 乘公交到北京上班, 燕郊镇虽然早已是国家级高新技术开发区, 但大部分产业仍以房地产为主。完成 1~3 题。

- 燕郊成为“睡城”的直接原因是
A. 北京市产业转移 B. 北京房价不断攀升 C. 燕郊环境质量好 D. 燕郊基础设施完善
- 目前“睡城”燕郊面临最大的问题是
A. 交通压力增大 B. 环境污染严重 C. 就业压力增大 D. 治安问题突出
- 燕郊要摆脱“睡城”, 走上可持续发展道路, 切实可行的措施是
A. 改善与北京之间的交通 B. 控制燕郊的房产开发
C. 降低北京房价, 减少跨省上班 D. 发展高新产业和第三产业

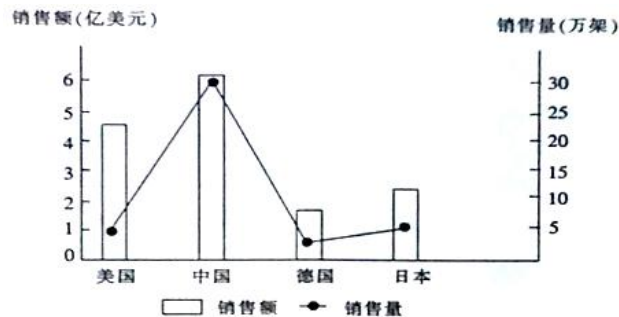
某地 (30°N , 105°E) 所在学校的学生于某日世界时 (伦敦时间) 23:00 正好看到太阳位于地平线上。

据此完成 4~5 题。

- 此日后的一个月内
A. 广州的日落时间逐渐延迟 B. 上海的正午太阳高度逐渐变小
C. 南半球的极夜范围逐渐缩小 D. 哈尔滨的昼长与夜长之差逐渐增大
- 该时节最容易出现的是
A. 南京梅雨连绵 B. 武汉高温多雨 C. 北京秋高气爽 D. 大连积雪深厚

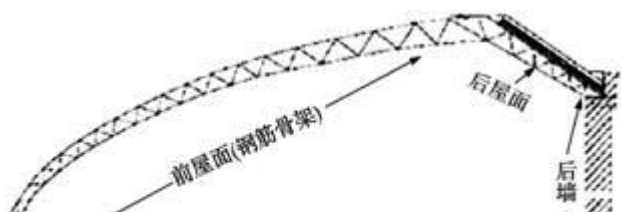
下图为世界四个国家 2015 年钢琴销售额与销售量统计图。读图完成 6~7 题。

- 钢琴制造业属于
A. 技术指向型工业
B. 劳动力指向型工业
C. 市场指向型工业
D. 原料指向型工业
- 图中单架钢琴生产利润最高的国家是
A. 中国 B. 美国
C. 德国 D. 日本



辽沈IV型温室是我国东北地区广泛使用的一种日光温室, 前屋面上覆盖塑料薄膜, 后屋面采用较厚的

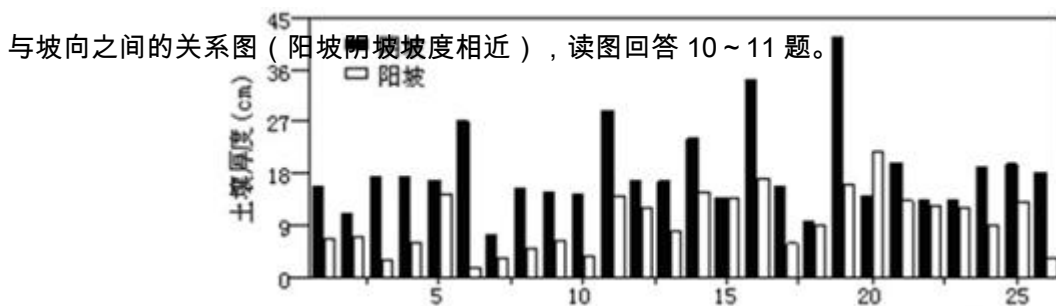
多层复合结构, 冬季不加温或极端天气条件下少量加温即可保证喜温蔬菜越冬生产。一般纬度越高, 后屋



面面积越大，且后屋面的仰角应比当地冬至日正午太阳高度角大 $6^{\circ} \sim 8^{\circ}$ ，保证冬季全室无光照死角。下图为该日光温室侧截面示意图，读图回 8~9 题。

8. 据图中信息可推断
- A. 前屋面最好的朝向是南偏东
 - B. 该日光温室主要在夏半年使用
 - C. 该日光温室主要生产经济作物
 - D. 后墙应轻薄透气
9. 推测后屋面的主要作用是
- A. 增加温室的阳光照射面积
 - B. 防御暴雪、大风对温室的破坏
 - C. 在严寒季节改善温室前屋面的光照条件
 - D. 利于温室保温

坡面上的土壤厚度受多种自然地理要素的影响。下图为某研究小组绘制的我国华北某丘陵区土壤厚度



10. 造成该地阳坡和阴坡土壤厚度差异的原因，可能是
- A. 阳坡降水更丰富
 - B. 阳坡光照条件好
 - C. 阴坡地形坡度大
 - D. 阴坡植被更茂盛
11. 该山地南、北坡接受光照量差别较小的季节是
- A. 春季
 - B. 夏季
 - C. 秋季
 - D. 冬季
12. 近日，国务院总理李克强在主持召开“十三五”《规划纲要》编制工作会议时强调，未来的经济发展依赖的应当是供给侧和需求侧，要在供给侧和需求侧两端发力，双管齐下、共同发力，促进产业迈向中高端。国家这样做的经济学依据是
- ①生产决定消费，生产决定消费的质量和水平
 - ②它有利于更好地发挥市场在资源配置中的决定性作用
 - ③它有利于激发企业的创新能力，增强经济持续增长动力
 - ④保持经济总量的平衡有利于国民经济的持续健康稳定发展
- A. ①②
 - B. ①③
 - C. ②④
 - D. ③④
13. 李克强总理在《政府工作报告》中指出，全面推进“三网”融合，加快建设光纤网络，大幅提升宽带网络速率，发展物流快递，要加快培育消费增长点，把以互联网为载体、线上线下互动的新兴消费搞得红红火火。这种新兴消费可以
- ①减少流通环节，节约交易成本
 - ②维护市场秩序，促进交易公平
 - ③引导消费理念，避免从众消费
 - ④拉动经济增长，推动科学发展
- A. ①②
 - B. ②③
 - C. ①④
 - D. ③④
14. 下表为某国企工程师王明的某月收入一览表：

应税项目	持有公司股票所得	工资、薪金所得	利息收入	房屋租赁所得	彩票中奖	其他所得
金额(元)	1000	7400	1000	2000	1000	1500

现个人所得税起征点为 3500 元。请你按照超额累进税率计算王明该月应缴纳的个人所得税为_____元。

(附：个税税率表)

级数	全月应纳税所得额	税率(%)
1	不超过 1500 元的部分	3
2	超过 1500 元至 4500 元的部分	10
3	超过 4500 元至 9000 元的部分	20
4	超过 9000 元至 35000 元的部分	25

A. 625 B. 195 C. 285 D. 525

15. 2016 年 9 月 22 日至 23 日，“中国消费金融国际高峰论坛”在北京隆重召开。中国人民银行表示，为促进社会主义市场经济健康发展，将规范发展征信机构，引导征信机构的业务创新和产品创新，为社会提供多层次、多样化的征信服务。这表明

- ①诚实守信是现代市场经济正常运行的必要条件 ②商业征信机构的目的是为了完善社会信用体系
③良好的市场秩序依赖开放透明的市场规则 ④诚实守信是社会主义市场经济的基本特征

A. ①② B. ①③ C. ②④ D. ③④

16. 截至 2015 年 9 月，我国已有 24 个省份出台户籍制度改革实施意见，提出建立居住证制度，取消农业和非农业户口的性质区分，原来的暂住证制度将退出历史舞台，居住证与暂住证虽只有一字之差，但其作用不可小视，表现在

- ①从制度层面贯彻了法律面前一律平等原则 ②赋予了广大农民更多更切合实际的权利
③为广大农民真正当家作主创造了必要条件 ④进一步保障了广大农民自由迁徙的权利

A. ①④ B. ①② C. ②③ D. ③④

17. 甘肃平凉市崆峒区安国镇人大主席李竹奎当选 2015 年度法治人物，他 25 年来投身乡镇第一线，进村入户，搜集人民群众的意见建议，撰写多份高质量调查报告，坚持多种方式普法宣传，使法律意识深入人心，被称为当地最忙的人大代表。李竹奎的忙碌工作

- ①是密切联系群众，努力为人民服务的具体体现
②能够发展基层民主，创新人民当家作主的新形式
③是政府依法行政，切实提高行政管理水平的必然要求
④是人大代表依法履行职责，参与行使国家权力的表现

A. ①② B. ①③ C. ①④ D. ③④

18. 为科学保护各民族语言文字，我国于 2015 年启动中国语言保护工程，截至 2016 年 4 月，以按计划完成 81 个少数民族语言(含濒危语言)调查点的工作任务。根据计划，语保工程于 2020 年完成。蒙古、藏、维吾尔、哈萨克、朝鲜等 5 种少数民族文字单行本已由中国民族语文翻译局翻译、民族出版社出版，并在全国公开发行。这表明

- ①我国坚持民族平等的原则 ②各民族共同繁荣的原则得以贯彻落实
③少数民族使用自己语言文字的权利得到尊重 ④少数民族具有管理本民族文化事务的权利

A. ①② B. ②③ C. ①③ D. ③④

19. “优秀作品并不拘于一格、不形于一态、不定于一尊，既要有阳春白雪、也要有下里巴人，既要顶天立地、也要铺天盖地。只要有正能量、有感染力，能够温润心灵、启迪心智，传得开、留得下，为人民群众所喜爱，这就是优秀作品。”这一观点是基于

- ①人们的文化需求具有多层次、多样化、多方面的特点
②现代文化产业的发展使文化市场更加色彩斑斓
③人民群众是社会主义文化的创造主体和服务对象
④大众传媒的发展使各种思想文化相互冲击、交汇

- A. ①③ B. ①④ C. ②③ D. ②④

20. 不同年龄段对延迟退休态度迥异：超过 7 成已退休的受访者表示支持，年龄在 30 到 44 岁之间的受访者超过一半表示反对，受影响最大的 80 后更关心医保等政策能否跟上。综合大家的意思，一致希望：退休政策“要弹性不要刚性”。这表明

- ①矛盾双方在一定条件下会相互转化 ②矛盾的共性寓于个性之中
③矛盾的个性表现共性并优于共性 ④要坚持共性与个性具体的历史的统一

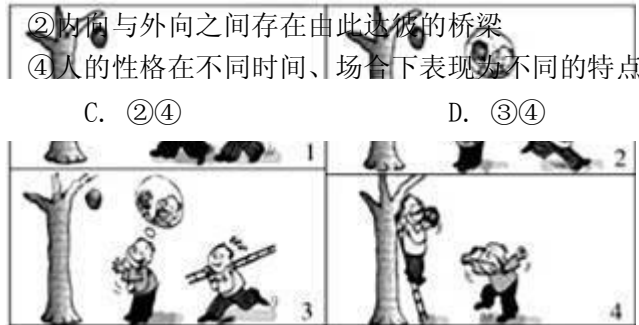
- A. ①③ B. ①② C. ②④ D. ③④

21. 心理学上常把人的言语、思维和情感指向于内者称为内向性格，但这并不是说内向的人在所有时间所有场合都内向，在某些时间和某些场合他同样可以表现出外向，只是大多数时间和场合表现内向罢了。对此认识正确的是

- ①内向与外向之间的相互排斥是相对的 ②内向与外向之间存在由此达彼的桥梁
③性格中的不同特征可以相互分离以维持均衡 ④人的性格在不同时间、场合下表现为不同的特点

22. A. ①② B. ①③ C. ②④ D. ③④

- ①空谈水之泡沫，实行金之点滴
②路遥知马力，日久见人心
③与其临渊羡鱼，不如退而结网
④滴水穿石



- A. ①③ B. ①④ C. ②③ D. ③④

23. 中国（上海）自由贸易试验区以上海外高桥保税区为核心，辅之以机场保税区和洋山港临港新城，区内实行金融制度、贸易服务、外商投资和税收政策等多项改革措施，进一步在市场化 and 国际化方面探路。自贸区的探路举措启示我们

- ①要善于通过变革生产关系，以促进生产力的发展
②要善于在矛盾的特殊性中寻求矛盾的普遍性
③要善于分清主流与支流，坚持两点论与重点论的统一
④要善于通过变革上层建筑，以巩固经济基础

- A. ①② B. ③④ C. ①③ D. ②④

24. 北宋政府曾经发布告示：“国家开赏举之门，广收罗之路……如工商、杂类人等奇才异行，卓然不群者，亦许解送。”这种政策

- A. 反映了社会经济要求 B. 改变了传统选官制度的地位
C. 取消了人才选拔的身份条件 D. 提升了商人的社会经济地位

25. 宋人沈括曾说：“钱利于流借。十室六邑，有钱十万，而聚于一人之家，虽百岁，故十万也。贸而迁之，使人糴十万之利，遍于十室，则利百万矣。迁而不已，钱不可胜计。”据此，沈括认为

- A. 商品货币关系发展有利于经济增长 B. 政府应该发行更多的货币
C. 财富过于集中不利于社会发展 D. 人口迁徙有助于商业繁荣

26. 下表所反映的历史信息最准确的是

1843—1860年五口岸茶叶出口数量(单位：吨，以每三年合计统计)											
年份	上海	广州	福州	厦门	宁波	年份	上海	广州	福州	厦门	宁波
1843-1845	2298	74149				1852-1854	60177	51529	12036		
1846-1848	19959	88966				1855-1857	83996	30240	40159		
1849-1851	46145	53161				1858-1860	62657	38405	53635	7076	1028

备注：1843年只有广州出口 8044吨。

- A. 鸦片战争后中国外贸格局发生变化
B. 沿海地区的外贸仍然居于全国首位
C. 纺织业是浙江行省的传统优势产业
D. 地方暴动导致茶叶出口出现了波动
27. 中国近现代史上有部文件写道：“国家应在经营范围、原料供给、销售市场、劳动条件、技术设备、财政政策、金融政策等方面，调剂国营经济、合作社经济、农民和手工业者发动个体经济、私人资本主义和国家资本主义，使各种经济成分在国营经济的领导下，分工合作，各得其所，以促进整个社会经济发展。”该内容最可能出自
- A. 《中华民国临时约法》
B. 《抗战建国纲领》
C. 《共同纲领》
D. “五四宪法”
28. 1972年6月，首届世界环境大会在斯德哥尔摩召开。中国代表在会上批评美国对越南使用生化武器，严重破坏越南的生态环境。美国政府要求本国代表对此淡化处理。美国作出这样的反应主要是因为
- A. 美国孤立新中国的阴谋最终失败
B. 美国需要调整国际战略布局
C. 美国推行了较为务实的外交政策
D. 美苏力量对比发生根本变化
29. 下表摘编自新中国某一时期报刊的内容。该内容所反映的时代背景是

报刊	文章
《农村工作通讯》	《分田单干必须纠正》
《湖南日报》	《包产到户是社会主义时期阶级斗争的新动向》
《湖北日报》	《紧紧扎起社会主义篱笆，绝不让安徽资本主义毒液蔓延》
《大众日报》	《不容开历史倒车》

- A. 三年困难时期出现了逆集体化趋势
B. 改革开放前后经济改革的艰难摸索
C. “文革”中经济建设“左”倾泛滥
D. 八十年代末国际形势影响了国内改革
30. 在中共的一次重要会议上，毛泽东说：“我们无产阶级有自己的阶级利益，民主主义革命成功了，无产阶级只不过得到了一些自由和权利，还是不能完全解放。而且民主主义成功，幼稚的资产阶级便会迅速发展，与无产阶级处于对抗地位。因此无产阶级便必须对付资产阶级，实行‘与贫苦农民联合的无产阶级专政’的第二步奋斗。如果无产阶级的组织能力和战斗力强固，这第二步奋斗是能跟着民主主义革命胜利后即刻成功的。”对此材料理解最准确的是
- A. 是俄国的历史经验与中国实践的结合
B. 人大制度和社会主义改造具有必要性
C. 明确区分了新旧民主主义革命的任务
D. 指出了无产阶级对革命的领导权问题
31. 战国成书的《法经》包括了《盗》、《贼》、《捕》、《网》、《杂律》、《具律》，是后来历代统治者的立法蓝本。大约同时期的《十二铜表法》则包括了传唤、审理、执行、家长权、继承权、监护权、所有权、占有权、私法、公法、宗教法等。这说明，罗马法
- A. 更重视司法程序从而保证了审判公正
B. 能更有效地保证罗马社会的民主平等
C. 不能很好地打击犯罪和维护社会治安
D. 体现了法律目前人人平等的法治精神
32. 1689年，英国议会“有意识地把王冠连同拟好的权利宣言一起呈现给威廉和玛丽”，登基的新誓词规定威廉和玛丽“根据议会同意的法规”进行统治，而以往的誓词只要求国王宣誓维护“先王批准的法律和习惯”。据此，下列说法正确的是
- A. 英国君主处于统而不治的地位
B. 权力中心转移到了下议院
C. 英国君主的国内地位发生变化
D. 英国权力格局发生了变化
33. 成立于1600年的英国的东印度公司曾垄断了英国和印度及其以东地区的贸易，它于19世纪70年代被解散，但同时却纷纷出现了如洛克菲勒、西门子等众多的欧美垄断组织。对这两类垄断团体的说法正确的是
- A. 促进了英国对外贸易发展
B. 推动了政府对经济的干预
C. 有利于世界殖民体系形成
D. 对自由主义造成不利影响

34. 著名历史学家钱乘旦说，西方的现代化经过几百年的发展，其优势和弊端都十分清楚。二战后，欧洲人企图在两个方向上修补这个社会：一是修补资本主义，二是修补民族国家。修正的方向是企图超越民族国家，但并非消灭民族国家，而是在民族国家之上和之下的层面上对他进行“越位”，从而对国家主权进行分割。这表明战后的欧洲
- A. 联合的程度逐渐深化
B. 民族主义运动的平息
C. 受到美国的政治控制
D. 开始走向了社会主义
35. 孟德斯鸠曾说，英国资产阶级革命推翻封建贵族的统治后，英国社会实际上处于一种非常危险的状态，个人最自由的情况是专制产生的最可怕的契机。对孟德斯鸠的观点理解最准确的是
- A. 英国革命剥夺了贵族的统治权
B. 英国革命并没有推翻君主专制
C. 君主立宪有助于保护革命成果
D. 英国革命不应将自由作为目标

第Ⅱ卷

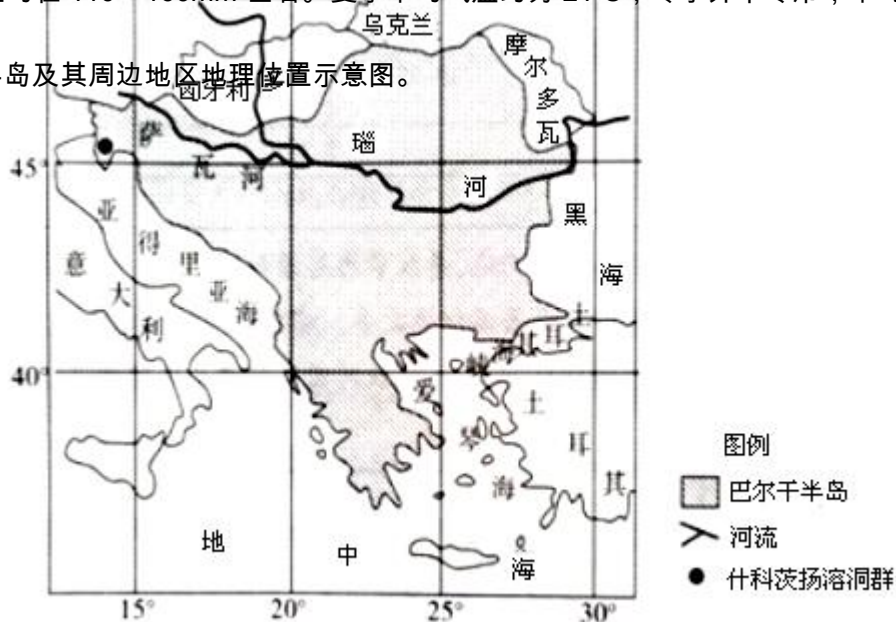
本卷包括必考题和选考题两部分，共 160 分。第 36 题~第 41 题为必考题，每个试题考生都必须作答。第 42 题~第 46 题为选考题，考生根据需求作答。

36. (22 分) 阅读图文材料，回答下列问题。

巴尔干半岛是欧洲南部三大半岛之一，占据十分重要的地理位置。什科茨扬溶洞群位于斯洛文尼亚，

这里月降雨量均在 110~160mm 左右。夏季平均气温约为 21℃，冬季并不寒冷，平均气温为 -0.6℃。下

图是巴尔干半岛及其周边地区地理位置示意图。



- (1) 读图分析巴尔干半岛地理位置的重要性。(8 分)
- (2) 说明什科茨扬溶洞群所属的地貌类型及形成原因。(8 分)
- (3) 简述什科茨扬溶洞群的形成过程对自然地理环境的不利影响。(6 分)

37. (24 分) 阅读资料，回答下列问题。

材料一 新疆和田素有“玉石之都”的美称。和田玉为变质岩，其矿体分布在海拔 4000 米以上的昆仑山高山

地区，早期的人们一般在秋季于甲处拾玉(图 3)。古代的和田，是丝绸之路南路的交通枢纽，桑田面积

较大，是重要的丝绸集散地，西域三大丝都之一。



材料二 和田河流域耗水量年内分配比例表(%)

月份	1	2	3	4	5	6	7	8	9	10	11	12
比例	1.5	2.1	4.2	8.8	13.3	17.0	18.7	16	10.2	5	2.2	1

- (1) 试分析人们一般在秋季于甲处拾玉的主要原因。(10分)
- (2) 简析古丝绸之路经过和田的主要原因。(8分)
- (3) 说出和田河流域耗水量年内变化特点,并分析其中耗水量大的原因。(6分)
38. (26分) 阅读材料,回答下列问题。

国有企业属于全民所有,是推进国家现代化,保障人民公共利益的重要力量。

材料一 2016年8月M市出台《关于进一步深化国资改革促进企业发展的意见》,《意见》是在M市委领导下,深入调研,召开了20多个座谈会,征求各阶层400余人意见的基础上形成的。在此之前,M市委常委会还先后审议通过《M市国资国企改革20条》和《M市管企业领导人员任期管理办法》,根据中

纪委对首轮国企巡视的要求，改善和加强 M 市国企党组织建设，确保国企改革沿着党中央确定的正确方向顺利推进。

材料二 2016 年 M 市国企改革的相关措施

积极转变政府职能，减少行政审批，打造规范运行的现代企业
召开重点骨干企业干部职工座谈会
鼓励非公有制企业参与国有企业改革，鼓励发展混合所有制
形成适应现代城市发展要求的国资布局，将 80% 以上的国资集中于战略性新兴产业、先进制造业、现代服务业和民生保障等关键领域和优势产业
支持有条件的企业开展境外投资和跨国经营，培育跨国集团

- (1) 结合材料一，运用发展社会主义民主政治的相关知识，分析 M 市是如何发挥党在深化国企改革中领导核心作用的。(12 分)
- (2) 依据材料二，运用经济生活有关知识，分析 M 市深化国企改革所采取措施的合理性。(14 分)

39. (26 分) 阅读材料，回答下列问题。

贵州省遵义县枫香镇花茂村曾经被称为荒茅田，村民靠种植低效高杆的农作物为生，是典型的贫困村。驻该村的扶贫工作在党的扶贫政策指引下，坚持精准扶贫。他们深入调查，摸清扶贫对象，改变了原来撒胡椒面式的粗放式扶贫模式。他们从资源状况、地理环境、历史传统、思想观念等多方面研究该村发展的优势和不足，和村民共同制定了一套符合实际的致富方案。在精准识别和精准设计的基础上，他们带领村民瞄准市场需求全力打造特色旅游品牌，将红色文化、传统手工艺、现代农业等特色资源进行优势重组，形成了具有本地特色的村域产业，该村走上了富裕道路。

不少地方将移民搬迁和城镇化建设作为扶贫的重要抓手，然而新建村镇、住宅小区、街道等如何命名成了一个颇具争议的话题。有人主张采用延续千百年的老地名，如：鼓楼村、承贤庄、义和巷等，他们认为：这样的地名是历史留下的活化石，寄托着浓浓的乡愁和期盼，承载着故乡的历史密码和厚重的优秀传

统文化，而另一部分人则主张命名应突出“大气”和“新潮”，如，寰宇天下、宏鼎鑫居、鑫泰商业街等，他们的理由是：这样的名字时髦、气派、上档次、商业气息浓厚，体现了与时俱进的时代要求，有利于促进经济发展。

- (1) 具体问题具体分析是马克思主义活的灵魂，是马克思主义的一个重要原则。结合材料，分析花茂村扶贫工作队是如何坚持这一原则而实现精准扶贫的。(12分)
- (2) 对新建村镇、住宅小区、街道等如何命名，你赞成哪一种主张？请用文化生活有关知识阐明理由。(10分)
- (3) 为响应共青团中央实施的“中国青年志愿者扶贫接力计划”，某校决定以“扶贫攻坚，青年担当”为主题组织一次演讲比赛。请你为自己的演讲稿列出两个核心观点。(4分)

40. (25分) 阅读材料，完成下列要求。

材料一 张謇(1853~1926年，出身于江苏海门农家，青年时忙于科举，经过26年努力，于1894年状元及第。甲午战争后，张謇向时任两江总督张之洞提出实业救国的主张，被委派创办通州实业公司，张謇主张依靠棉纺织业和冶铁业发展国民经济，他兴办纱厂，开办肯姆公司、冶铁厂、纸厂、火柴厂、盐业公司等，他用企业利润兴办公益事业，在江苏南通开办370所小学、6所中学和3所高等学校，还设立了育婴堂、养老院、济贫院、女红传习所……甚至还修了700余里的马路。但是，张謇却于一战后破产。他晚年叹息：“幸哉一隅地，假息得苟全。太平在何时？今年待明年。呜呼，覆巢之下无完卵，野老洒泪江风前。”

——摘编自章开沅《张謇传》

材料二 亨利·福特(1863~1947年)出身于美国密歇根州农民家庭，自幼对机械兴趣浓厚，视爱迪生为偶像。16岁离家出走，到底特律追寻理想。恰逢美国19世纪末的大发展时期，经过12年努力，1891年进入爱迪生公司，并成为发电机总工程师。他逐渐认识到汽油机才是未来主要动力，辞职创办汽车公司，走大众化、重视速度和效率的路线。但此时汽车还只是上流社会的奢侈品，福特以失败告终。1903年，第二家亨利·福特公司开业，他驾驶的福特汽车能在40秒内跑完1英里，但投资人抛弃了他，并将公司名字改成凯迪拉克。第三家福特公司，以流水线作业大幅降低生产成本，适应了一战后美国平民消费需求，T型车一举成功，亨利·福特由此成为美国企业家的代表，也成为“从贫民到富翁”的美国梦的代表。

——根据《亨利·福特自传》等整理

- (1) 根据材料一二并结合所学知识，分别指出张謇和亨利·福特创办实业的特点。(12分)

(2) 根据材料一二并结合所学知识，分析指出二人的事业发展之路一成一败的原因。(13分)

41. (12分) 有学者指出，1949年以来我国的高考历史命题走过了一段较为曲折的历程。

①1950—1965年，高考历史命题基本上以知识识记为主，题目较为简单，题型相对单一。

②1966—1976年，高考历史命题中断，影射史学成为当时的主流，主要是推荐“根红苗正，出身好的工农兵学员上大学。

③1977—1990年代初，历史命题曾经再度考察知识的再现，仍然注重革命史的考查，考查学生的识记为主。

④1990年代—2010年，高考历史命题强调知识与能力并重，突出学科能力(获取和解读信息，调动和运用知识，描述和阐释事物，论证和探讨问题)考察。

⑤2010以来，高考历史命题升级，强调能力的同时，更加注重学科的核心素养(历史的辩证思维，时空观念，史料实证，历史解释，家国情怀价值观)。注重唯物史观和国内外热点问题，考查学生识记、分析，概括等综合能力，难度较大。

请依据材料并结合所学知识，运用近现代史的相关史实，对上述内容进行探讨、解读。(说明：可以结合不同时期的国内外形势、特点，就某一时期高考历史命题的特征进行论证，也可以就不同时期高考历史命题的变化进行分析、探讨，可以对学者观点进行修改、补充、或者提出新观点，并加以论述，要求观点明确，史论结合，史实准确)。

请考生从2道地理选考题、3道历史选考题中每科任选一题作答，注意所做题目的题号必须与所涂题目的题号相同，如果多做，则按所做的第一题计分。答题前务必用2B铅笔将所选做题号后的方框涂黑，只能涂黑其中一个。

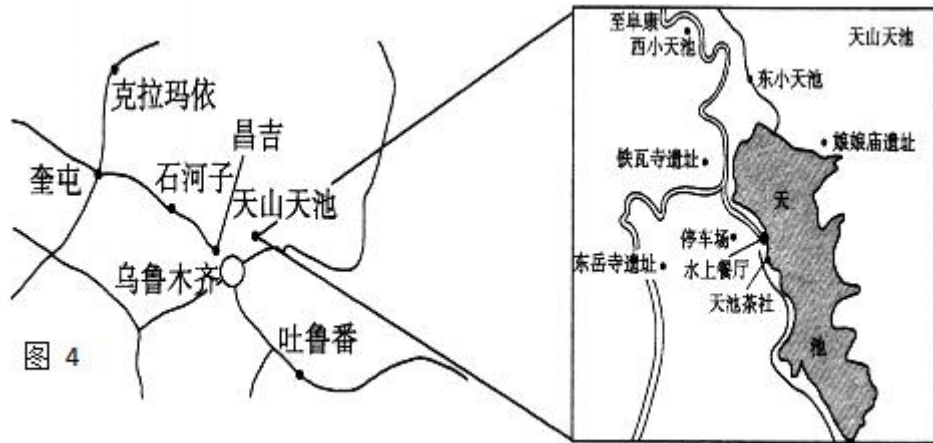
42. (10分) 【旅游地理】

材料一 天山天池风景区位于天山东部博格达山半山腰，距乌鲁木齐市67公里。该景区囊括了高山冰川、湿地草甸、森林峡谷、湖泊山岳和戈壁沙漠等自然景观，形成了完整的植物垂直景观带谱，为国内外罕见；

以远古瑶池神话及宗教和民族风情为文化内涵的人文景观,以其独特的意蕴,增添了景区的文化底蕴。2010年共接待游客 159 万人次,较上年度增长 16%。

材料二 2013 年初,天山天池国际滑雪场成为昌吉州首家 5S 级滑雪场。该滑雪场水准高,规模大,已经获准成为 2016 年全国冬运会赛场。

材料三 天山天池景区及周边地区交通示意图。



分析天山旅游资源开发的优势条件,并简述为办好冬运会该景区应采取的措施。(10分)

43. (10分) 【环境保护】

湘江水量丰富,其渔业资源却日趋衰退。调查发现,湘江流域植被破坏严重,湖泊缩小,江面船只多,河床上多垃圾、排污口和随意堆放的沙石,甚至建有房屋。渔民想方设法捕鱼,非法捕鱼活动猖獗。右图为“湘江流域图”。



据此分析湘江渔业资源衰退的原因。

44. (15分) 【历史上的重大改革回眸】

材料一 养廉银制度正式推行大致始于雍正二年。此后不断补充完善，到雍正十三年最后确立。其基本原则是“为官员定养廉之资，为公事留办公之费”。具体做法是“将州县之火耗（注：火耗，即银两在兑换、熔铸、保存、运解中有一定损耗，故征税时要增加损耗，这种附加称为“火耗”或“耗羨”。）重者严行裁汰”，并将原由州县私征之耗羨提解归公，收贮于各省司库，从解公之火耗中“酌中量留耗羨抵补无著之亏空”，然后再由各省长官根据下属不同级别、各地事物繁简程度定立分数，从司库提取相当部分作为“养廉银”分发各官，以为各级官员的“日用之资”，从而达到“不使累及民间”，“上不误公，下不累民”的目的。

——吴敌《雍正时期养廉银制度简论》

材料二 从赫德（注：英国人，1863-1908年间担任中国海关总税务司）执政时起，海关关员的高薪待遇多达9项。此外还实行年资加薪制度，一般洋员每2年晋升或加薪一次，（后来）华员每3年晋升或加薪一次。年资越高、等级越高、待遇越好。……赫德还在海关实行退休制度，并（在中国）首创推行养老储金制度。……这样，养老储金实际成了促使关员保持操守、廉洁行政的保证金，无形中增加了管理效力。……此其一。其二，海关对贪污案件处分极严厉，对发案的基层主管，亦因监管不力而受连坐处分。……其三，近代海关有严密的税款完纳和呈报制度，……从而使不法海关职员无机可乘，想贪而贪不到。……赫德在海

关所实行的高薪养廉，不是一项孤立的措施，是与严格的考试录用、考绩、监督、奖惩等制度相互联系、有机作用的。

——文松《关于赫德评价问题》

- (1) 据材料一概括分析雍正时期实行养廉银制度的积极意义。(6分)
- (2) 对比材料一与材料二，分析赫德的养廉政策较雍正的养廉银制度有哪些不同之处？结合上述材料谈谈你对高薪养廉政策的认识。(9分)

45. (15分) 【20世纪的战争与和平】

材料一 1929年经济危机把德国推向了绝境，魏玛共和国无能为力，国际社会也没有救助。谁能拯救德国，谁就会成为大众拥戴的领导者。1930年9月14日是德国走向独裁的关键的一天，那天共有640万选民把他们的选票投给了国家社会主义工人党及其领袖希特勒。1933年1月30日，希特勒上台成为帝国总理。先天不足的德国式民主最终产下了一个怪胎，居然造就了专制独裁，这难道不是民主的悲剧吗？难道不是对西方战胜国遏制德国策略的一种讽刺吗？

——摘编自朱维毅《德意志的另一行泪》

材料二 二战结束后，纳粹战犯在纽伦堡审判中受到了战争罪、反人道罪等罪行的判决。1951年9月27日，德国总理阿登纳表示：“纳粹的罪行是以德国人民的名义犯下的，因此德国人要把道德上和物质上的赔偿视为自己应尽的义务。”1952年，德以两国签订《卢森堡条约》，创下战败国主动对受害者进行赔偿的先例。据统计，到2000年为止，被害犹太人群体获得的赔偿超过1500亿马克。1970年勃兰特总理在华沙犹太隔离区起义纪念碑前下跪，为在纳粹德国侵略期间被杀害的死难者默哀。1985年，魏茨泽克总统把5月8日对于德国的纪念意义从“战败日”改为“胜利日”，“感谢盟军把我们从纳粹统治下解放出来”。

——摘编自《人民网》等

- (1) 根据材料一并结合所学知识，概括希特勒在德国上台的背景。(6分)
- (2) 根据材料二并结合所学知识，指出二战后德国清算战争罪责的主要措施及其影响。(9分)

46. (15分) 【中外历史人物评说】

材料 严复（1854 -1921 年），福建福州人。清末著名启蒙思想家、翻译家和教育家。因译介《天演论》闻名于世，被康有为称之为“中国西学第一人”。1898 年，严复译介的《天演论》印行后，原名“嗣糜”的胡适，受“优胜劣败、适者生存”之言感召而改名，并以“适之”为字。次年，梁启超在《论近世国民竞争之大势及中国前途》一文中指出：国际上的竞争“有国家之竞争，有国民之竞争”，并高度认同近代欧洲理论家“竞争者进化之母也，战争者文明之媒也”的说法。

1919 年 7 月，《少年中国》杂志第一卷刊载的魏嗣銮《人类进化的各面观》指出：正是达尔文“弱肉强食，生存竞争”的观念普遍盛行，因此导致了国与国之间的利益冲突，最终导致一战的发生。

同年，孙中山发表《建国方略之一：心理建设》，指出世界的进化可划分为“物质进化”、“物种进化”和“人类进化”三个时期，并进一步认为“物种进化”必以“竞争”为法则，“人类竞化”则依靠互助为动力。意在强调人类进化得之于互助，而不在竞争。

——摘编自朱东华《严复译介〈天演论〉的旨趣及其产生的影响与论争》等

- （1）根据材料并结合所学知识，概括两个不同时期人们对严复有关进化言论的认识。（6 分）
- （2）根据材料并结合所学知识，简析一战后人们对严复进化言论态度发生变化的原因。（9 分）