

广州高山文化培训学校

2017 届文科综合

强化训练 27

时间：150 分钟

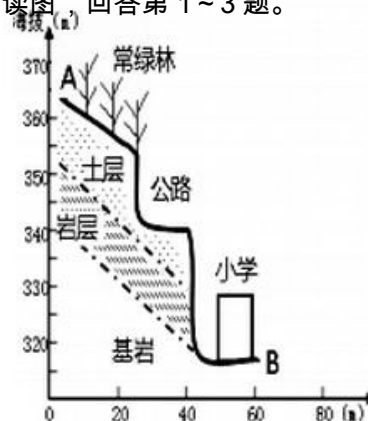
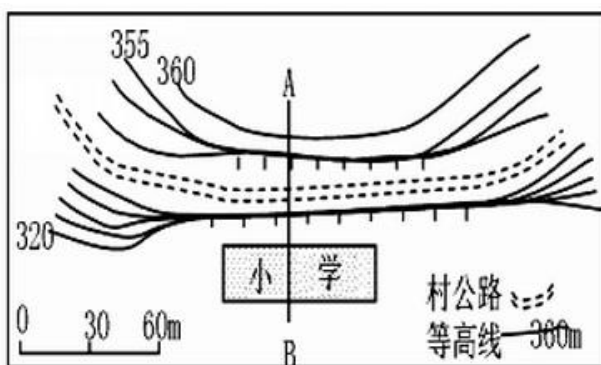
总分：300 分

2017.02.28

第 I 卷

第 I 卷共 35 小题。每小题 4 分，共 140 分。在每个小题给出的四个选项中，只有一项符合题目要求。

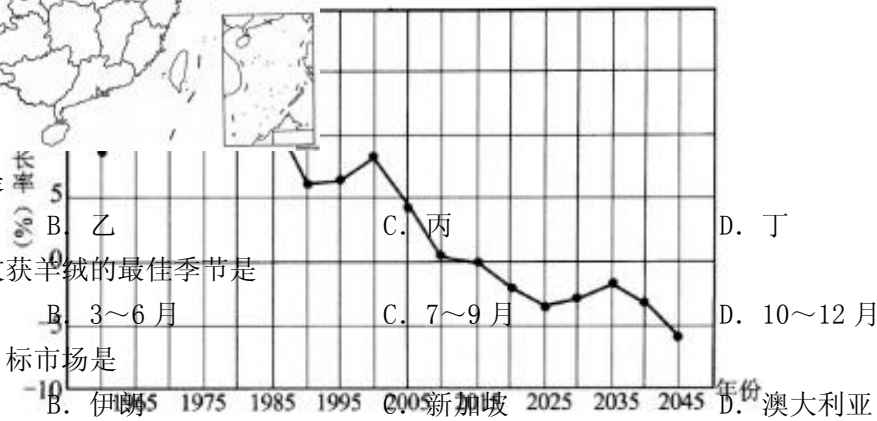
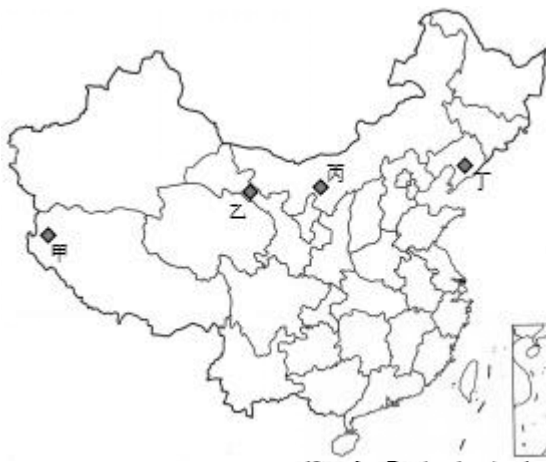
下左图为我国某小学附近等高线图，右图为 AB 线的剖面图。读图，回答第 1~3 题。



1. 该小学最有可能在
A. 华北平原 B. 黄土高原 C. 云贵高原 D. 东南丘陵
2. 最近该地利用 GPS 对土层进行定位，其目的是为了监测
A. 滑坡 B. 泥石流 C. 洪涝 D. 台风
3. 该地为了稳固岩层土层而采取的措施中效果最不明显的是
A. 排水 B. 建抗滑挡墙 C. 植树种草 D. 清除土方减载

被中国人称为“开司米”的克什米尔羊绒，是珍贵的纺织原料，素有“软黄金”和“纤维钻石”之称，绒山羊生活在蒙古国、中国内蒙等地区的干燥高原上，那里极度恶劣的气候条件为山羊生长羊绒提供了适宜环境。判定羊绒质量高低的一个重要指标是细度：羊绒的直径细度越小，羊绒的质量越高。下图示意我国不同区域绒山羊分布，下表为我国不同区域绒山羊产绒量及羊绒细度对比。据此完成第 4~5 题。

	①	②	③	④
细度 (μm)	13.5	15.5	15	17
产绒量 (g)	370	280	400	486



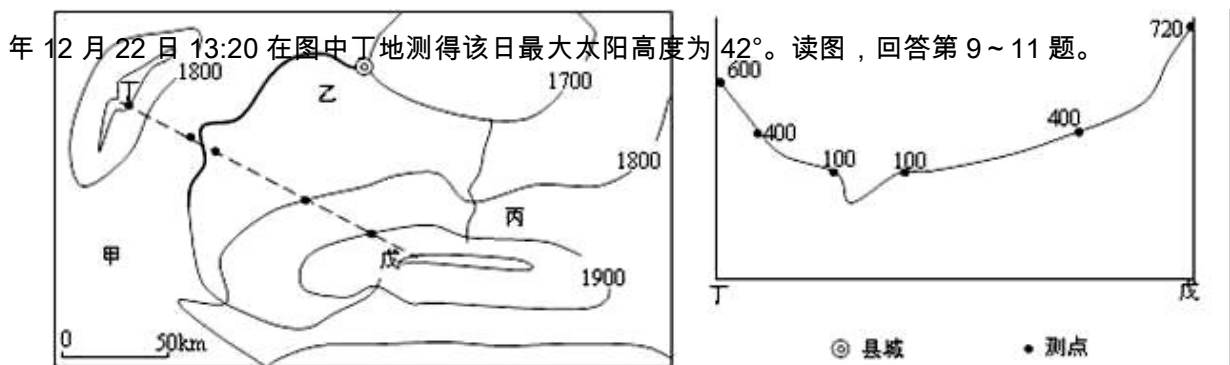
4. 表中④对应的地区是
 A. 甲 B. 乙 C. 丙 D. 丁
5. 推测内蒙古绒山羊收获羊绒的最佳季节是
 A. 1~3月 B. 3~6月 C. 7~9月 D. 10~12月
6. 中国羊绒制品出口目标市场是
 A. 美国 B. 伊朗 C. 新加坡 D. 澳大利亚

我国规定男子 16~60 周岁，女子为 16 岁~55 周岁为劳动年龄人口，下图示意我国 1960~2045 年

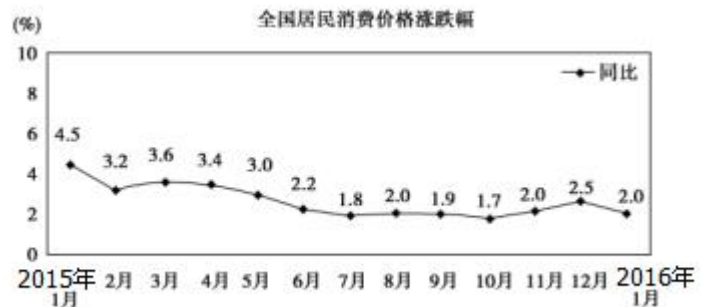
每五年的劳动人口增长变化（未考虑全面二孩政策的预测数据）。读图，完成第 7~8 题。

7. 仅考虑人口增长情况，我国劳动力就业压力最大的年份是
 A. 1965 年 B. 1980 年 C. 2015 年 D. 2045 年
8. 2016 年 1 月 1 日我国正式全面放宽二孩政策后，则图中预测数据发生明显变化的年份是
 A. 2045 年以后 B. 2030 年以后 C. 2025 年以后 D. 2020 年以后

我国某中学地理研究性学习小组进行野外科考，绘制由图中等高线和主要河流图，并于北京时间 2015



9. 某风电企业准备在田中设立风电发电场，该学习小组提供的最佳参考位置应该是
A. 甲 B. 乙 C. 丙 D. 丁
10. 该研究性学习小组根据相关地质部门资料，绘制出了丁到戊的地质统计图（右图），曲线上各数据表示各测量点对应的地下某相同岩层的深度，则可以判断出沿该剖面线为
A. 背斜山 B. 向斜谷 C. 背斜谷 D. 向斜山
11. 下列是该研究性学习小组对该区域的发展提供的参考意见，其中最合理的是
A. 大力发展旱地小麦生产，提高粮食总产量 B. 利用水资源丰富的特点，大力发展农业
C. 加强道路基础设施建设，积极发展旅游业 D. 加大当地人口生态搬迁，扩大环境承载力
12. 当今家庭理财出现了新趋势：单一存款转向多元化理财；保守转向中高等风险投资。对此变化，如下推断合理的是
①物价上涨和降息，储蓄存款的保值增值功能降低 ②对经济增长的预期减弱，刺激了中高等风险投资
③家庭经济实力的提升，增强了投资抗风险能力 ④投资多元与收益成正比，居民投资理财不再保守
A. ①③ B. ①④ C. ②③ D. ②④
13. 增加居民收入，提高居民收入在国民收入分配中的比重、劳动报酬在初次分配中的比重，努力实现居民收入增长和经济发展同步、劳动报酬增长和劳动生产率提高同步，是实现社会公平的重要举措，这有利于
①理顺国家企业个人三者的分配关系，实现发展成果由人民共享
②建立按劳分配为主体、多种分配方式并存的分配制度
③合理调整投资与消费的关系，促进经济社会协调健康发展
④调动人们投资与消费的积极性，促进个人收入稳步增长
A. ①② B. ①③ C. ③④ D. ②④
14. 下列既能实现居民消费价格(CPI)发生如下图的变化，又能对应与之相适的正确措施可能是
①提高利率，回笼货币——稳健货币政策
②增发国债，扩大投资——紧缩财政政策
③企业减税，降低负担——积极财政政策
④本币升值，增加进口——外汇汇率上升
A. ①② B. ②④
C. ①③ D. ③④



15. 习近平在湖南考察时强调，要加快转变经济发展方式，加快实施创新驱动战略，各级都要追求没有水分的生产总值，追求有效益、有质量、可持续发展的经济。为此，企业可采取的措施有
①转变企业发展战略，提高自主创新能力 ②深入贯彻落实科学发展观，调整产业布局
③开发节能环保产品，调整产品结构 ④转变企业发展方式，实现企业的外延式增长
A. ①② B. ①③ C. ②③ D. ②④
16. 与“国家管理”主体单一不同，“国家治理”强调多元主体对社会的治理，包括了国家管理者、人民、社会组织在内的民主、参与式、互动式管理。这就意味着必须
A. 充分保证公民享有对国家管理者的质询权与监督权
B. 保证城乡社区自治组织和社会组织的监督执法权力
C. 不断减少政府行政权力的行使范围
D. 加强法制，规范公民与社会组织的权利与义务
17. 近年来，江苏徐州市积极探索推进基层民主，依靠完善和落实村党组织决策权、村民代表会议议定权、

村委会执行权、群众监督权，形成了完整的村级事务决策链和工作链，实现了党组织作用发挥与村民自治的有效衔接，为当地农村经济社会和谐发展提供了坚强支撑。以下可以作为介绍徐州经验内容的是

- ①完善村民自治，保障村民行使管理国家的权利 ②坚持党的领导、依法治国与人民当家作主的统一
③创新民主管理方式，引导群众共创幸福美好生活 ④维护党的权威，增强对村民自治组织的渗透力度
A. ①② B. ②③ C. ③④ D. ①④

18. 2015年12月，第十二届全国人大常委会第十八次会议审议民办教育促进法修正案草案二次审议稿。2016年1月8日，民办教育促进法修正案草案二次审议稿在中国人大网公布，向社会公开征求意见，征求意见截止日期为2016年2月2日。可见，全国人大常委会

- ①坚持民主集中制原则，履行文化建设职能 ②坚持走群众路线，促进立法的科学化、民主化
③完善舆论监督制度，畅通公民投诉渠道 ④提高立法透明度，拓宽人民群众参与立法渠道
A. ①② B. ①③ C. ②④ D. ③④

19. “亲，你还在犹豫什么，赶紧下手吧！”这是网上商城用当下流行的网络语言打出的广告语。不仅如此，更多的网络语言在我们生活中正被广泛使用。这说明

- ①网络文化正潜移默化地影响人们的生活 ②网络文化对人们的影响是深远持久的
③人们接受文化的影响往往是被动的 ④文化影响人们的交往行为和交往方式
A. ①③ B. ②③ C. ①④ D. ②④


20. “一分部署，九分落实”。全面深化改革重在落实，要使每一项改革方案都落到实处，重点是抓住领导干部的关键少数。之所以要“抓住关键少数”，是因为

- ①能否抓住主要矛盾对全面深化改革的成败起决定作用
②抓住领导干部这个关键少数就把握了事物的本质和主流
③关键部分的功能及其变化对整体的功能起决定作用
④全面深化改革任务的确定和落实需要运用综合的思维方法
A. ①④ B. ①③ C. ②③ D. ③④

21. 中国代表在第七轮中美战略与经济对话中郑重指出，中美不能走对抗冲突老路，构建新型大国关系就是一条和平相处的新路。从哲学上看，中美关系不能走老路，要走新路，是因为

- ①事物发展的趋势决定要在求同存异中发展中美关系
②矛盾双方的斗争性决定中美关系要摒弃老路走新路
③辩证法的革命批判精神需要开拓两国关系新境界
④辩证的否定观要求中美关系要勇于突破陈规
A. ①② B. ③④ C. ②③ D. ②④

22. 蕴含的哲理相一致的是



《两只小狗》

- A. 欲先弱之，必先强之 B. 弱者恒弱，强者恒强
C. 弱者自弱，强者自强 D. 以弱胜强，以强凌弱

23. “向前进，向前进，战士的责任重，妇女的冤仇深，古有花木兰替父去从军，今有娘子军扛枪为人民……”这首家喻户晓的《娘子军军歌》歌颂了 1931 年在海南诞生的中国工农红军第二独立师女子特务连。红色娘子军在中共琼崖特委的领导下，积极发动群众，配合主力部队作战，先后参加了伏击沙帽岭、火烧文市炮楼等 50 多场战斗，为革命事业立下了不朽功勋。红色娘子军的光辉事迹反映出人民群众
- ①是社会变革的主力军，是创造社会历史的源泉 ②自己解放自己，是推动历史发展的决定力量
③是社会历史的主体，是社会变革的决定力量 ④是社会历史的创造者，决定社会的性质和面貌
- A. ①② B. ①③ C. ②③ D. ②④
24. 清朝学者万斯大说：“古之时，诸侯之嫡长子为世子，嗣为诸侯，其余支庶之后，族类繁多，惧其散而无统也，因制为大宗小宗之法。”材料主要说明了
- A. 大、小宗都有血缘关系 B. 诸侯的庶子都不能取得政治权力
C. 宗法关系是维系政权的纽带 D. 各级政权被一家一姓所掌控
25. 唐朝在三省六部制的基础上又设立了政事堂。每当需要颁下诏敕的时候，就先由中书省和门下省会同其他必要人员在政事堂举行联席会议，来商议决定政务。政事堂的设立
- A. 弱化了宰相权力 B. 提高了行政效率
C. 导致了冗官现象 D. 加强了权力制衡
26. 汉武帝时期，儒家思想开始成为封建社会的统治思想，主要是因为
- A. 道家无为思想不能解决问题 B. 汉武帝急需从“无为”转向“有为”
C. 董仲舒提出了罢黜百家的建议 D. 儒家思想有利于汉武帝的“大一统”
27. 苏州出土了一块明清时期的碑刻，记载了一起商标侵权案，“近有无耻之徒、假冒本堂牌记，或换字同音，混似射利，粘呈牌记，叩求示禁。”这实质上反映出苏州
- A. 劳资矛盾尖锐 B. 出现资本主义萌芽
C. 商品经济发达 D. 商业法律十分完备
28. 汪康年于光绪十五年(1889)参加乡试，因在“日月星辰系焉”（出自《四书·中庸》）一题中，能“以吸力解‘系’字，罗列最新天文家言”，被主考官认为是“新旧学均有根柢”，因此想把他列为第一名。这反映了
- A. 科举取士标准随时代发展而有所不同 B. 科举考试的内容变化顺应了时带潮流
C. 戊戌变法的开展推动科举制度的变革 D. 中国向西方的学习逐步转向思想领域
29. 清末曾有商人提出：“今日中国之政治现象，则与股份公司之性质最不相容者也。……故振兴实业之关键在于通过立宪确立法治、限制政权，保障民权来改良政治环境与政治组织”。该观点反映了
- A. 实业救国”思潮逐渐兴起 B. 商人成为晚清政治的主导者
C. 经济发展对政治改革的推动 D. 民主共和已成为时代的共识
30. 在 1927 年以前，外国货物在中国的实际进口税率只有 4%，1931 年则提高至 10%，1933 年提高至 20%，到 1934 年更是达至 25%。这体现了
- A. 日本侵华影响西方在华经济 B. 北伐战争对经济发展的促进
C. 西方各国对中国抗日的援助 D. 中国关税自主权的逐步收回
31. 在渝期间，毛泽东在回答“共产党要不要另起炉灶”的问题时表示，“不是我们要另起炉灶，而是国民党灶里不许我们造饭”，“我们对国民党，只是有所批评，留有余地，并无另起炉灶之意”。这表明此时的中国共产党
- A. 不敢公开反对国民党的专制统治 B. 缺乏抗争国民党的实力
C. 强调自身独立自主的必要性 D. 倡导和平建国
32. 柏拉图把智者斥为“批发或零售精神食粮的商人”。他的这一评价可以说明智者学派
- A. 具有鲜明的功利性 B. 言行体现了艺术性


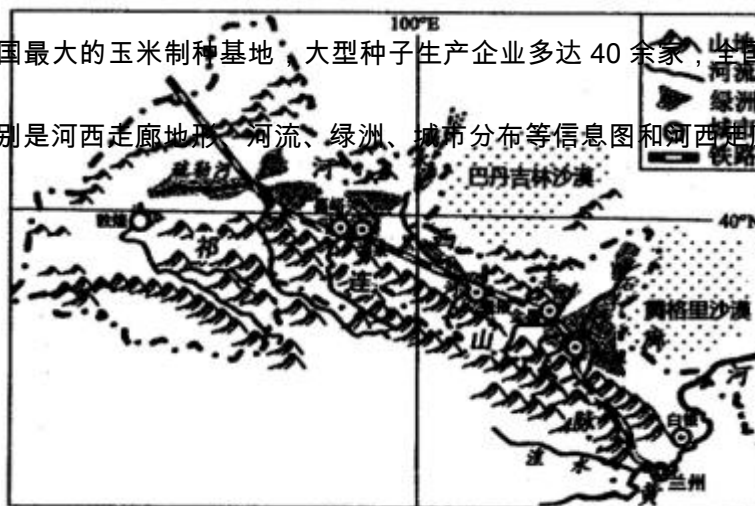
- C. 十分重视对物质世界的探索
D. 奠定奴隶主民主派的理论基础
33. 《英国文化模式溯源》中写道：“‘光荣革命’的重要性不仅在于推翻了一个不得人心的老国王，更重要的是它拥立了一个愿意服从议会的新国王。”这表明光荣革命
- A. 开启了英国主权在于议会的政治格局
B. 宣告了英王“统而不治”时代的到来
C. 标志着英国君主立宪制政体最终确立
D. 促使资产阶级代议制在英国率先形成
34. 自 1981 年起，中国曾多次获得世界银行的贷款，用于改良农田，建立商品粮基地和发展教育事业等，这主要说明
- A. 世界银行一定程度上促进了发展中国家的经济发展
B. 世界银行是为协调国际货币关系而建立的，目的在于维护国际经济的稳定
C. 世界银行贷款的重点是发展中国家
D. 世界银行是联合国的专门机构
35. 1946 年 9 月 19 日，丘吉尔在苏黎士大学发表的题为《欧洲的悲剧》的演说中指出：“摧毁了纳粹政权之时……我向欧洲提出的建议可以概括为一句话：联合起来！”欧洲国家为此进行最初的实践是
- A. 建立北约
B. 建立欧洲煤钢共同体
C. 组建欧洲联盟
D. 成立欧共体

第 II 卷

本卷包括必考题和选考题两部分，共 160 分。第 36 题～第 41 题为必考题，每个试题考生都必须作答。第 42 题～第 46 题为选考题，考生根据需求作答。

36. (22 分) 阅读图文材料，完成下列要求。

杂交玉米一方面可以生产出不同品质和用途的玉米，如高油玉米、高蛋白玉米等，另一方面可提高作物的抗性（抗病、抗旱、抗虫、抗倒伏等），改良果穗、株型、密植等，显著增加产量。然而经过大田种植后，玉米就不再表现出优质高产的杂交优势，所以必须实行种、粮生产的区域化。河西走廊的张掖、武威、酒泉等绿洲是我国最大的玉米制种基地，大型种子生产企业多达 40 余家，全国半数以上的玉米种子都产自这里。下图分别是河西走廊地形、河流、绿洲、城市分布等信息图和河西走廊春玉米生长期需水量与降水量图。



- (1) 春玉米苗期需水量少，拔节后叶面积急剧扩大，蒸腾耗水加剧，幼穗迅速长大时水分需求最为强烈。从水源角度分析河西走廊种子生产优势。(6分)
- (2) 近年来，河西走廊大力推广地膜覆盖技术，玉米增产显著。试说明农用地膜对玉米生长自然条件的改善作用。(6分)
- (3) 河西走廊的沙漠荒滩被称为“种子天然晾晒场”，请从自然条件分析其适宜玉米种子晾晒的原因。(6分)
- (4) 你是否赞同河西走廊制种基地继续扩大发展规模，请说明理由。(4分)

37. (24分) 阅读图文材料，完成下列要求。

材料一 据统计，美国大致有 4520 hm^2 (公顷) 温室，以种花为主，蔬菜温室大约有 400 hm^2 (公顷)。

70 年代石油危机之前，以芝加哥为中心分布有大片温室，之后，温室生产中心转移到南方的加州、亚州、德州和佛州等地生产。全国温室花卉产量集中在秋、冬季节，北方温室花卉圣诞节后至春季停产，南方温室则全年生产。



材料二 1994 年以来，亚利桑那州建立了大片独特温室：屋顶覆盖加入硫酸铜染料，降低红外线透射率的薄膜，必要时再在薄膜上喷撒白灰；屋顶每隔 3 米设一个喷头，每 3 分钟自动喷水 30 秒；抬高屋脊到 7 米，一半屋顶为自由开启天窗……

- (1) 70 年代后，美国温室生产中心转移到南方加州等地区，试说明南方地区温室生产的优势条件。（6 分）
- (2) 推测美国北方温室种植花卉圣诞节后至春季停产，南方温室则全年生产的原因。（6 分）
- (3) 简析亚利桑那州特殊温室适用的季节及温室所采取措施的主要目的。（12 分）

38. (26 分) 阅读材料，完成下列要求。

党的十八届五中全会勾画出了中国未来发展的清晰蓝图，将对我国经济社会的发展产生深远影响。

材料一 中国未来五年有三个规律不容忽视：“遵循经济规律的科学发展，遵循自然规律的可持续发展，遵循社会规律的包容性发展。”《十三五规划》95 次谈及“发展”，首次提出“创新，协调，绿色，开放，共享”的十字发展理念。全会提出“坚持绿色发展，着力改善生态环境。坚持绿色富国、绿色惠民，为人民提供更多优质生态产品，推动形成绿色发展方式和生活方式，协同推动人民富裕、国家富强、中国美丽。”

材料二 全会公报指出：促进人口均衡发展，坚持计划生育的基本国策，完善人口发展战略，全面实施一对夫妇可生育两个孩子政策。有专家指出，从党中央公布“全面实施一对夫妇可生育两个孩子”政策到全面实施还需一个过程，在政策落地之前“抢生”二孩者仍属违法，地方政府可按规定进行处罚。

- (1) 结合材料一和所学经济生活知识，从社会再生产过程的角度，为推动形成绿色发展方式和生活方式提出合理化建议。（14 分）
- (2) 结合材料二并运用《政治生活》知识，阐释该专家观点的合理性。（12 分）

39. (26 分) 阅读材料，完成下列要求。

材料一 2015 年 9 月 3 日是中国人民抗日战争暨世界反法西斯战争胜利 70 周年纪念日。在 9 月 3 日举行的纪念中国人民抗日战争暨世界反法西斯战争胜利 70 周年大会上，盛大的阅兵活动展示国威军威，凝聚全民力量。对此，广大网民纷纷“点赞”，有的认为，阅兵活动传递出中国捍卫国家安全的强大意志，向全

世界展示出中国维护和平正义的决心，提振了爱国主义精神，期待所有中华儿女团结一心，创造更加美好的未来。还有的认为，阅兵活动是一次增强荣誉、凝聚共识、激发斗志的“空中加油”。只要我们鼓足“筚路蓝缕，以启山林”那股劲，发扬“蛮拼的”精神，奋力推进“四个全面”战略布局，就一定能早日实现中华民族伟大复兴的中国梦。

材料二 为纪念中国人民抗日战争暨世界反法西斯战争胜利 70 周年，由中国民族贸易促进会资助，贵州省委统战部、贵州广播电视台和贵州省黄埔军校同学会联合拍摄制作的大型抗战纪录片《横空出世-贵州抗战记忆》正式播出，该片深入发掘抗战期间发生在贵州省军民身上的故事，这是抗战题材纪录片“本土化”的一次成功尝试，通过人的描述及对事和物的展示，讲述那段抗战历史，重现当时抗日的场景，给予大众一个全新的视角。

(1) 结合材料一，运用文化生活知识，说明举行国家阅兵活动对弘扬和培育中华民族精神的价值。

(10 分)

(2) 结合材料二，运用唯物史观的知识，分析该纪录片的创作为什么要深入生活与“本土化”。(12 分)

(3) 铭记历史方能开创未来。请你就如何持之以恒地开展抗战爱国主义教育提出两条合理建议。(4 分)

40. (25 分) 阅读材料，完成下列要求。

材料一 根据不同的国情采用不同的政治体制，才能促进每个国家的发展。权力集中于中央在中国当时是一种普遍的政治体制，这一点从秦朝开始体现的很明显。虽然地方权力有时会威胁中央，但集权在古代中国是一个常态这应该是没有异议的，这说明其实用性很强。也就是说，中国的专制主义中央集权制度是与中国的封建生产方式相适应的。作为封建国家的管理体制……中国产生了高于同一时期世界上其他国家的物质文明和精神文明。

——解胜华《中央集权制度的利与弊》

材料二 在和英国打的时候，十三个邦(州)联合起来，等到把英国打败后，各自还是分散治理。1777 年召开“大陆会议”，通过了《邦联条款》，宣布结成“永久性的同盟”，名称叫“美利坚联邦”(中文译作“美利

坚合众国”)。各邦(州)仍保有自己的独立自主权,随着时间的推移,问题越来越复杂,有些人就主张应该建立一个强有力的政府,管理这个联邦。于是1787年各邦代表举行了一次有名的会议,史称“联邦制宪法会议”。

——资中筠《美国十讲》

- (1) 根据材料一、二,指出秦朝与美国的政治创举,结合所学知识简析其社会背景。(12分)
- (2) 根据材料一、二并结合所学知识,指出秦朝与美国政治制度的本质区别,并分析其对历史发展的推动作用(10分)
- (3) 综合上述材料,谈谈你对政治制度的认识。(3分)

41. (12分) 阅读材料,完成下列要求。

材料 荷兰、英国和美国的就业结构(1820~1998)

		荷兰(%)	英国(%)	美国(%)
1820	农业	43	37	70
	工业	26	33	15
	服务业	31	30	15
1890	农业	36	16	38
	工业	32	43	24
	服务业	32	41	38
1998	农业	3	2	3
	工业	22	26	23
	服务业	75	72	74

——蒋昭侠《产业结构问题研究》

上表涵盖了丰富的历史信息,提取其中一条信息,并结合所学知识予以说明。

请考生从 2 道地理选考题、3 道历史选考题中每科任选一题作答，注意所做题目的题号必须与所涂题目的题号相同，如果多做，则按所做的第一题计分。答题前务必用 2B 铅笔将所选做题号后的方框涂黑，只能涂黑其中一个。

42. (10 分) 【旅游地理】阅读材料，完成下列问题。

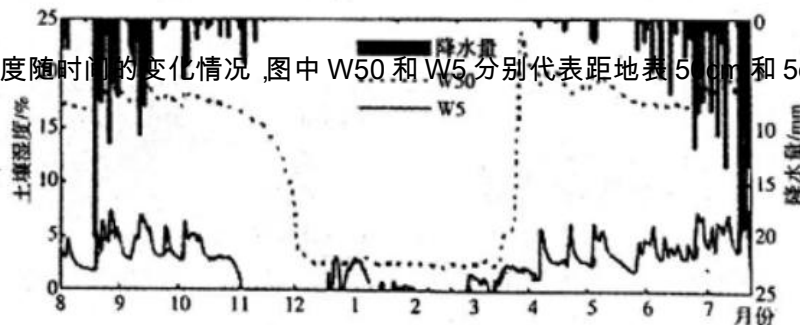
《南极：终极之旅》是由资深极地科学家以其丰富学识和亲身经历，对南极洲的自然地理、环境生态、科学价值与历史人文等进行了全方位的介绍，尤其从旅游的角度对南极不同地区的景观特色和观光要览、经典旅游线路、相应的知识储备、野外探险安全和旅游环境保护等诸多方面加以详尽介绍。下图为《南极：终极之旅》的封面。



说出南极地区主要的特色旅游资源及南极旅游开发的不利条件。

43. (10 分) 【环境保护】阅读材料，完成下列问题。

念青唐古拉山位于青藏高原南部，平均海拔在 5000 米以上，主峰为念青唐古拉峰，海拔 7111 米主峰及附近地区常年冰雪皑皑，是青藏高原东南部重大的冰川分布区，下图示意念青唐古拉山北城草线 (5200 米) 附近某地降水与土壤湿度随时间的变化情况，图中 W50 和 W5 分别代表距地表 50cm 和 5cm 土壤湿度。



- (1) 据图简述土壤湿度的时间变化特点。(6 分)
- (2) 据图分析气候变暖对土壤湿度的影响。(4 分)

44. (15 分) 【历史上重大改革回眸】

材料一 大约在 150 年前，位于太平洋西岸的岛国日本，在西方殖民者坚船利炮的胁迫下，遭遇了巨大

的生存危机。出人意料的是，它将此作为自己弃旧图新、迎头赶上的历史机遇，并最终使自己成为东方世界第一个摆脱西方大国的欺凌、顺利实现现代化的国家，成为唯一一个挤入帝国列强行列，靠侵略扩张在自己的国土外建立过殖民地的亚洲国家。

——《大国崛起……百年维新》

材料二 日本早稻田大学国际关系学博士高峻说：“1868年的明治维新涉及政治体制、社会文化、教育军事和司法宗教等各个方面。同时期的中国也进行了轰轰烈烈的洋务运动，甚至在1898年还出现了自上而下的资本主义改革——“戊戌变法”。但是中日变法的不同结果确实令人深思。……日本在觉得有必要的时候会非常积极、开放地吸收外来文化和科技的精华。正是由于日本文化中本来就包含有许多外来因素，所以其在日后必要时对于吸收外来文化并没有很大的抵触感。而当时的清王朝忌讳大量吸收和引进西方先进的制度和文化的，只是不彻底地进行了部分经济和军事改革，始终未触动最深层的政治体制和思想观念的问题，从而最终导致了改革的不彻底和失败。”

——摘编自《亚洲诸国的“日本梦魇”》

- (1) 根据材料一和所学知识回答，150年前的中国和日本有何共同的“生存危机”？（5分）
- (2) 根据材料二和所学知识回答，中国洋务运动在经济、文化、军事方面有哪些主要改革措施？明治维新和洋务运动一成一败的原因是什么？（10分）

45.（15分）【20世纪的战争与和平】

材料一 以德军总参谋长施里芬制定的作战计划，其指导思想是“速战速决”，但它忽视了其他国家的作战能力。马恩河战役一结束，时任参谋长的小毛奇即向德皇报告：“陛下，我们输掉了战争。”

材料二 以美国国务卿兰辛为首的“战争责任与惩处战犯委员会”在《凡尔赛和约》中明确指出“战争是德国及其盟国所预谋的，德国和它的盟国曾极力破坏协约国谋取和平的努力”，“以致酿成战争之后果，所受一切损失与损害，德国承认由德国及其各盟国承担。德国虽然被迫接受了这一条，但从来没有在内心中接受过。德国代表认为：“大家要我们承认我们是战争的唯一祸首，我本人如果这样承认，那就是欺人之谈。”1961年德国历史学家弗里茨·费舍尔认为德国政府“完全有意识地”利用了“萨拉热窝事件”，“毫不犹豫地把德国投入一场侵略战争”，以便与其他帝国主义在世界上争夺霸权。

- (1) 有人认为战争一开始就注定了德国的失败，也有人认为战争过程中发生的各种变化导致了德国的最

后失败。据材料一并结合所学，谈谈你对上述观点的看法。（9分）

(2) 根据材料二，说明对第一次世界大战战争责任的认识。（6分）

46. (15分) 【中外历史人物评说】

材料一

时间	王韬的主要活动
1849年	受英国传教士邀请，入英人所办墨海书馆工作
1862年	因上书太平天国一事被清廷发现并追缉，在英国驻沪领事帮助下逃亡香港。滞港期间，协助英华书院将十三经译为英文，兼任香港《华字日报》主笔
1867年	漫游法英等国，应邀前往牛津大学、爱丁堡大学作学术演讲
1874年	在香港集资创办《循环日报》，评论时政
1879年	应日人邀请，前往日本考察四个月，写成《扶桑游记》
1886年	主持上海格致书院，推行西式教学
1894年	孙中山拜见王韬，王韬为孙中山修改《上李傅相(李鸿章)书》

材料二 论者徒夸其水师之练习，营务之整顿，火器之精良，铁甲战舰之纵横无敌，为足见其强；工作之众盛，煤铁之充足，商贾之转输负贩及于远近，为足见其富，遂以为立国之基在此，不知此乃其富强之末，而非其富强之本也！英国之所恃者，在上下之情通，君民之分亲，本固邦宁，虽久不变。

——王韬《纪英国政治》

(1) 根据材料一，说明王韬生活的时代背景并概括其主要贡献。（10分）

(2) 根据材料二，指出王韬的思想主张；结合材料一分析其提出这一思想的原因。（5分）